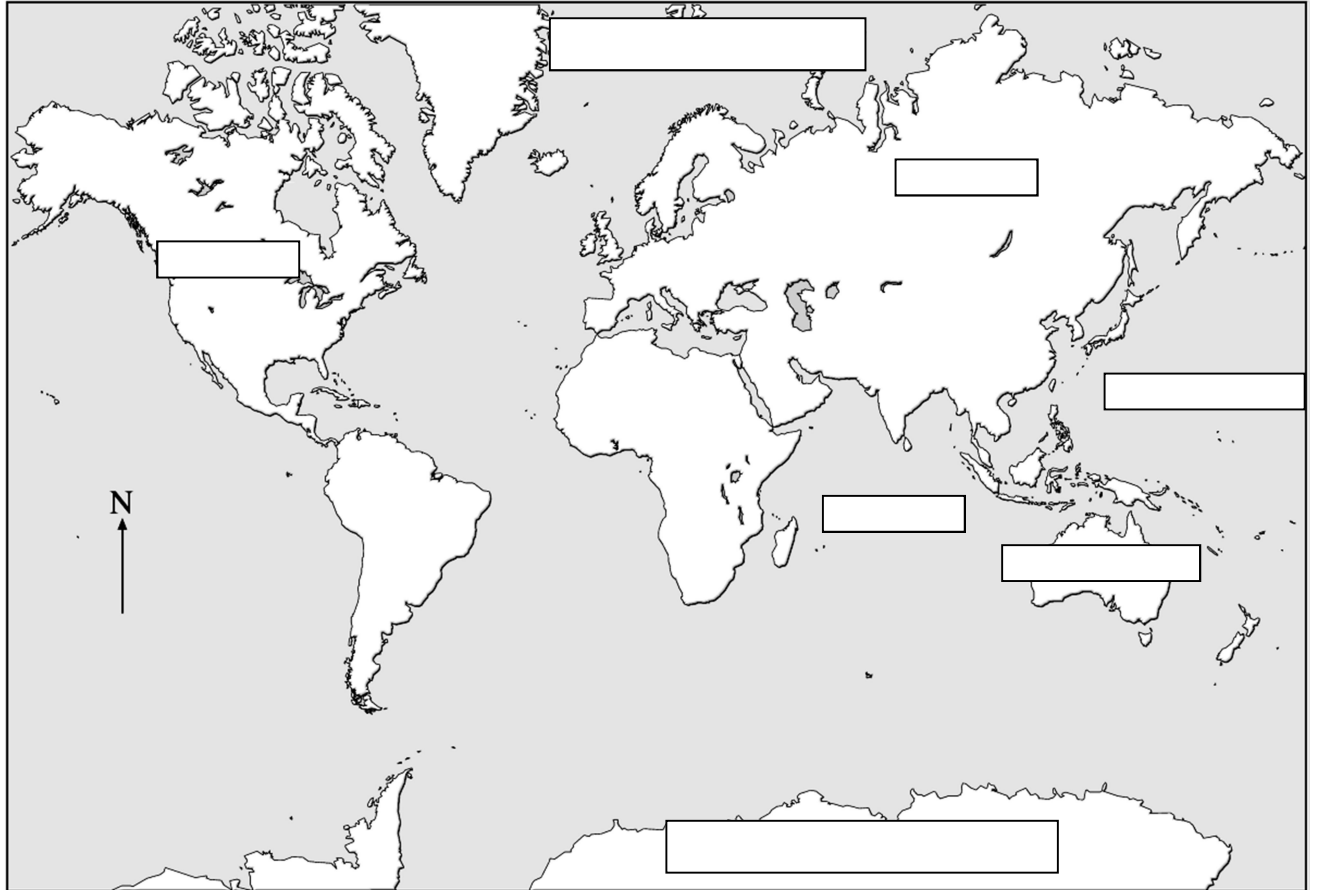


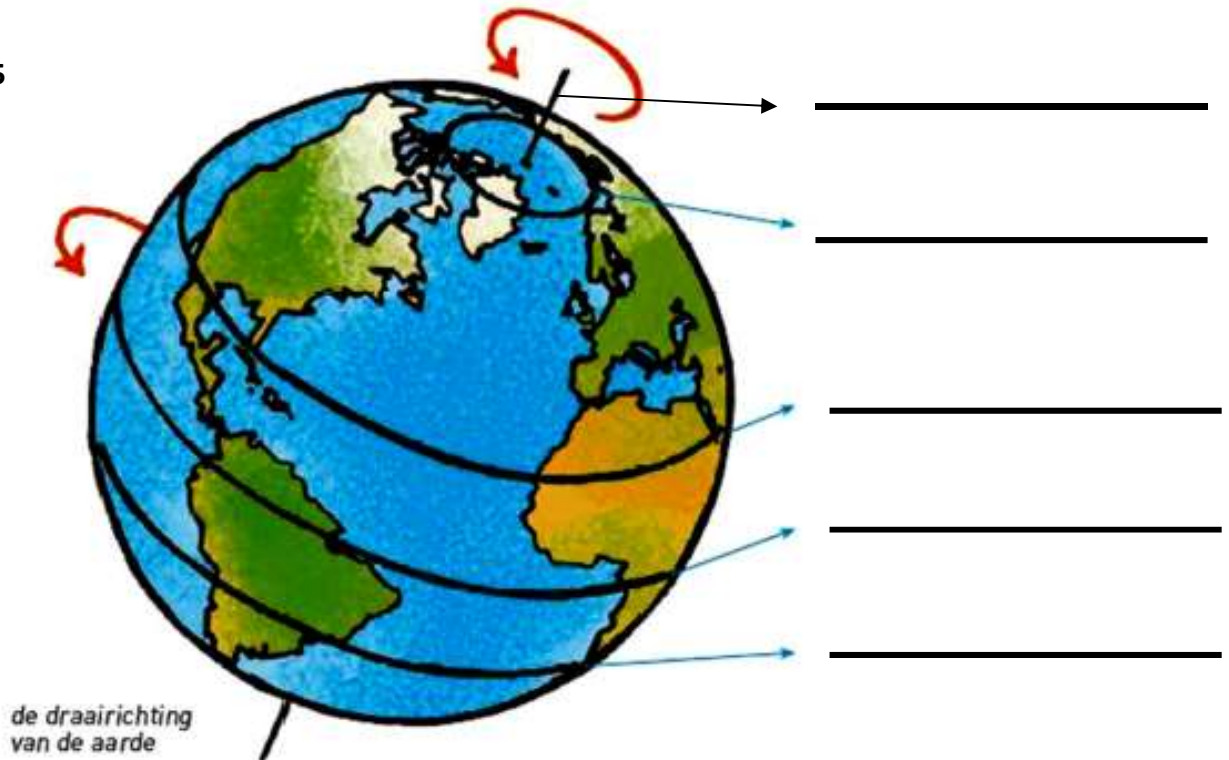
**TOETS CONTINENTEN EN PARALLELEN** /25

Schrijf de namen van de continenten en oceanen in de vakjes. Schrijf de namen van de parallellen naast de pijlen bij de globe. Let op! Je verliest punten voor schrijffouten in de namen van de continenten en oceanen!

/7



/5



Naam:

Datum:

Klas:

Trek de lijnen van de zonnestrallen die op de aarde vallen na met lat /1

Trek een lijn door het midden van de aarde met groen, kleur het deel met zonlicht  
geel en het donkere deel grijs; /2

Schrijf in de hokjes dag of nacht; /2

Teken de aardas met blauw; /1


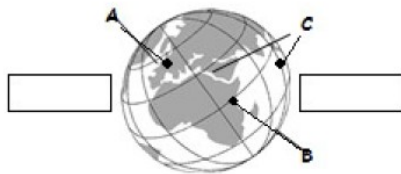
Duid de rotatierichting aan met een pijl; /1

Welk punt heeft als tweede de stralen van de zon? \_\_\_\_\_ /1

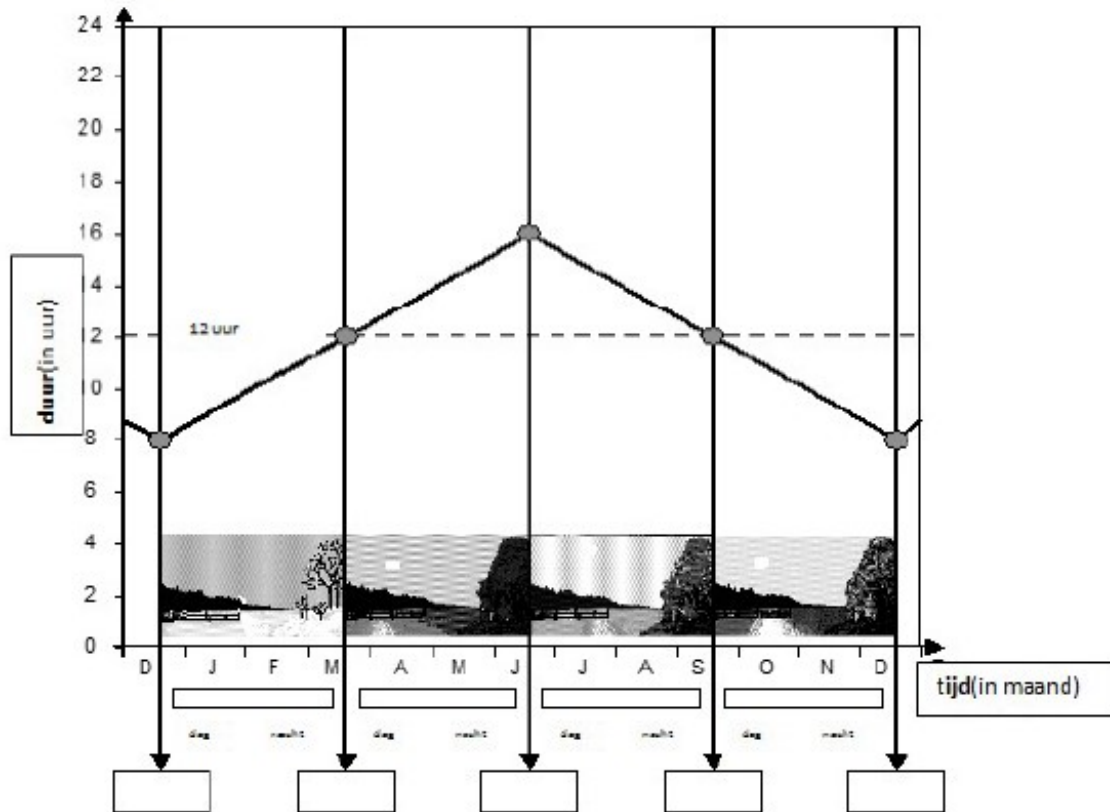
Geef een definitie van evenaar. /3

---

---



**Titel:** Hoe lang duren de dag en de nacht in ons land?



Arceer het gedeelte dat de nacht voorstelt met grijs. /1

Schrijf de namen van de seizoenen in de hokjes. /4

Hoe lang duurt de kortste dag van het jaar? \_\_\_\_\_ /1

Hoe lang duurt de langste dag van het jaar? \_\_\_\_\_ /1

Hoe lang duurt de dag op 1 oktober? \_\_\_\_\_ /1

Hoe lang duurt de nacht op 1 februari? \_\_\_\_\_ /1

Wat stelt de stippellijn voor? \_\_\_\_\_ /1

Op welke exacte momenten van het jaar zijn dag en nacht exact even lang?  
 \_\_\_\_\_ en \_\_\_\_\_ /2